

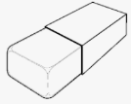
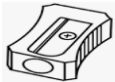



OBSERVE OS PREÇOS DOS MATERIAIS ESCOLARES ABAIXO E RESPONDA AS ALTERNATIVAS A SEGUIR:

LÁPIS	CADERNO	BORRACHA	APONTADOR	CANETA
				
R\$ 1,00	R\$ 8,00	R\$ 1,50	R\$ 2,00	R\$ 3,00

4. QUAL MATERIAL ESCOLAR POSSUI O **MENOR** PREÇO?

- A) CADERNO
- B) BORRACHA
- C) LÁPIS
- D) CANETA

5. QUAL MATERIAL ESCOLAR POSSUI O **MAIOR** PREÇO?

- A) LÁPIS
- B) CADERNO
- C) CANETA
- D) APONTADOR

6. QUANTO PAGAREI PELA COMPRA DO CADERNO E DO LÁPIS JUNTOS?

- A) R\$ 10,00
- B) R\$ 7,00
- C) R\$ 8,00
- D) R\$ 9,00

7. COMPREI UM CADERNO E UM LÁPIS E PAGUEI COM UMA NOTA DE



. QUANTO SOBROU DE TROCO?

- A) R\$ 2,00
- B) R\$ 3,00
- C) R\$ 1,00
- D) R\$ 4,00

8. ESCREVA O ANTECESSOR (ANTES) E O SUCESSOR (DEPOIS) DOS NÚMEROS ABAIXO:

A)

	7	
--	---	--

B)

	10	
--	----	--

C)

	15	
--	----	--